


一、單題(1~55題)

- (C) 1. 觀光局推出探索圖(一)中十個島嶼的活動。小蘭的外國朋友想來臺灣進行島嶼旅遊，她為友人規畫了下列行程：先浮潛、欣賞當地原住民的地下屋及品嚐飛魚料理；接著欣賞柱狀玄武岩及石滬景觀；最後欣賞國家公園內的戰地風光及風獅爺文化。上述行程依序應為右圖中哪些島嶼？
- 
- (A) ①→②→④ (B) ②→⑦→⑨
(C) ③→⑤→⑧ (D) ④→⑥→⑩

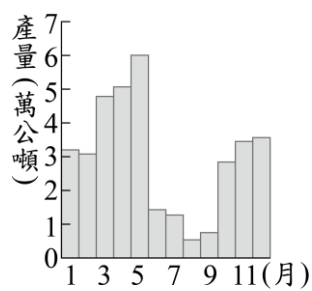
科目【地理】第二冊第一篇第 6 章 臺灣的區域特色及發展 (二)

試題解析：由圖中所敘述，小蘭為友人規畫先到 3 號蘭嶼看地下屋，然後再到代號 5 欣賞玄武岩及石滬的景觀。最後，到代號 8 的金門欣賞戰地風光以及風獅爺文化，故選(C)。

- (B) 2. 表(一)為臺灣四家企業為了提升競爭力而採行的方法，其中何者主要是為了達到增加產品附加價值的目的？
- | 企業 | 採行的方法 |
|----|-----------------|
| 甲 | 製鞋廠從中國沿海遷廠到內陸 |
| 乙 | 紡織廠研發吸溼排汗的機能布料 |
| 丙 | 煉鋼廠設置在高雄臨海工業區內 |
| 丁 | 電子廠自東南亞引進大量外籍勞工 |
- (A) 甲 (B) 乙 (C) 丙 (D) 丁

科目【地理】第二冊第一篇第 3 章 第二、三級產業

試題解析：選項甲是為了要節省勞工成本；選項乙的紡織廠研發機能布料，可增加競爭力，達到增加附加價值的目標；選項丙是交通區位要素；選項丁是為了減少勞工成本，故選(B)。

- (B) 3. 圖(二)為 1946 年至 1995 年臺灣月平均晒鹽產量統計圖，其中某些月分的產量明顯較低。根據臺灣晒鹽產區的氣候特性判斷，造成這些月分產量較低的氣候因素最可能為下列何者？
- 
- (A) 蒸發較弱
(B) 降雨量較多
(C) 風力較強勁
(D) 日照時數較短

科目【地理】第二冊第一篇第 5 章 臺灣的區域特色及發展

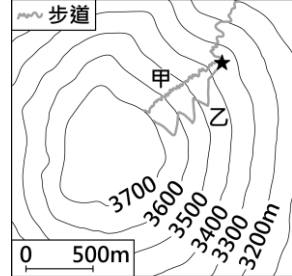
(一)

試題解析：圖(二)中，可以看出 6 到 9 月平均晒鹽產量明顯較低。(A)6 到 9 月為夏季，蒸發較強；(B)因為這個季節有梅雨跟颱風，所以造成晒鹽產量減少；(C)風力較弱，因臺灣風力較強的季節應為冬天；(D)臺灣 6 到 9 月為夏季，日出早、日落晚，日照時數較長，故選(B)。

- (A) 4. 中國某一跨海大橋於 2018 年完工，其連結了中國兩個特別行政區及一個經濟特區，可縮短往來三地的距離，及強化三地經濟社會的交流。上述跨海大橋應位於下列哪條河川的出海口？
- (A) 珠江 (B) 長江
(C) 海河 (D) 黃河

科目【地理】第三冊第一篇第 5 章 產業與經濟

試題解析：兩個特別行政區為香港特別行政區、澳門特別行政區，分別在珠江口的左岸跟右岸。香港特別行政區靠近深圳經濟特區，澳門特別行政區則靠近珠海經濟特區，故選(A)。

- (B) 5. 圖(三)為某座山山頂附近的等高線地形圖。小明攀登至★處時，有兩條登頂路線可以選擇，甲路線長度 1,150 公尺、乙路線長度 1,300 公尺。小明決定選擇乙路線登上山頂，他的考量依據最可能為下列何者？
- 
- (A) 甲路線起迄點高度差較大
(B) 乙路線登山步道相對較緩
(C) 甲路線位在河谷視野較差
(D) 乙路線位在山脊視野較佳

科目【地理】第一冊第一篇第 2 章 地形

試題解析：(A)甲跟乙的起迄點一樣，高度差相同；(B)因為乙的路線彎彎曲曲，總長度較長，所以用高度差除以路線總長度來算，乙路線相對較平緩；(C)甲跟乙都不在河谷上，因為該處的等高線並非呈現 V 字型尖端指向高處；(D)甲跟乙都不在山脊上，因為該處的等高線並非呈現 V 字型尖端指向低處。

- (B) 6. 考古學者在臺灣東部發現距今約三萬年前的史前人類生活遺跡，推估當時的人們已經懂得打製粗糙的石器，但還沒有磨製石器的技巧，也不懂如何蓋房子，而是住在天然的洞穴裡。這些史前人類最可能以下列何種方式維持生活？
- (A) 牧養牛羊
(B) 採集漁獵
(C) 種植稻米
(D) 圈養家畜



科目【歷史】第一冊第二篇第1章 史前臺灣與原住民文化
 試題解析：從懂得打製粗糙的石器，可知是舊石器時代，當時的人們已知用火並以採集漁獵維生，故選(B)。

(A) 7. 圖(四)是某一中國現代史攝影專輯的部分內容，圖中所呈現的景象，最可能與下列何者有關？



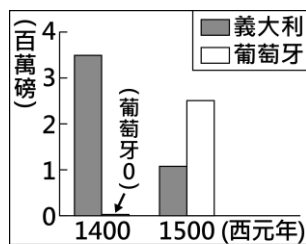
圖(四)

- (A)大躍進
- (B)抗美援朝
- (C)改革開放
- (D)文化大革命

科目【歷史】第四冊第三篇第6章 中華人民共和國的建立與發展

試題解析：圖(四)可看出全民大煉鋼，為中共1958年推行的「大躍進」運動，工業方面號召民眾「土法煉鋼」，故選(A)。

(C) 8. 圖(五)呈現不同年分，二地商人運回歐洲的香料重量估計值。圖中的變化，最可能與下列何者有關？



圖(五)

- (A)文藝復興的出現
- (B)工業革命的興起
- (C)海外新航路的發現
- (D)鄂圖曼土耳其帝國的滅亡

科目【歷史】第五冊第二篇第4章 近代歐洲的興起

試題解析：圖(五)可看出1400年葡萄牙的香料運量是0，到了1500年就超越義大利。因為在葡萄牙的航海家狄亞士、達伽馬相繼往海上發展後，建立起到東方的新航路，故選(C)。

(B) 9. 以下是一位外國記者對臺灣的記錄：「在插滿了新國旗的建築物內，擠入了許多情緒高昂的人們。新國旗以藍色為背景，中間有隻黃色老虎，尾巴翹得半天高；官員與群眾燃放鞭炮互相打氣。……直到日本軍艦在沿岸偵察的消息傳來，群眾像被潑了盆冷水般紛紛走避，官員則退入房內商量對策。這時大家才發現，想要爭取建立新的政權，除了升旗、放鞭炮以外，還有其他更重要的事情要做。」上述內容與下列何者最為相關？

- (A)中華民國退出聯合國
- (B)《馬關條約》的簽署
- (C)臺灣地方自治聯盟的成立
- (D)臺灣省政府發布「戒嚴令」

科目【歷史】第二冊第二篇第1章 日治時期的殖民統治

試題解析：甲午戰爭清廷戰敗，1895年馬關條約，臺灣要割給日本，由臺中仕紳丘逢甲等人倡議成立臺灣民主國，以藍地黃虎旗為國旗，故選(B)。

(A) 10. 「十七世紀時，臺灣某地區的許多原住民能夠閱讀西班牙文，而在當時的歷史記載中，荷蘭人在此地區探查金礦時，需要會說西班牙話的人才，並且以銀幣作為餽贈原住民的禮物。」此地區最可能位於圖(六)中何處？



圖(六)

- (A)甲
- (B)乙
- (C)丙
- (D)丁

科目【歷史】第一冊第二篇第2章 國際競爭下的臺灣

試題解析：西班牙人於1626年占領雞籠、蛤仔難(今宜蘭地區)等地，作為對日貿易的據點。二地皆在臺灣北部，故選(A)。

(C) 11. 在咖啡廳打工的大牛，自從年齡不受《勞動基準法》童工規定的保護後，老闆開始要求他每週五加班到凌晨。某日，大牛與客人發生衝突，因而被移送少年法庭審理。根據上述內容判斷，下列關於大牛的敘述何者最適當？

- (A)屬於無責任能力人
- (B)屬於完全行為能力人
- (C)可能受到保護管束處分
- (D)可能被處以十五萬元罰鍰

科目【公民】第四冊第四篇第6章 少年的法律常識

試題解析：童工是指滿15歲，未滿16歲。大牛剛滿16歲，屬民法的限制行為能力人；屬刑法的限制責任能力人。被移送少年法庭係因微罪(與客人衝突)，優先適用保護處分，故選(C)。

(A) 12. 小皇為了繳交某一主題的課堂報告，蒐集了下列三則新聞報導：

根據調查顯示，過半數國中、小學生課後會上安親班或補習班。親子共處時間從事的活動，多數回答看電視或用手機上網。	政府推動老人安養、長期照護等社會福利措施，減輕有照護需求家庭的負擔。	隨著單身及頂客家庭逐漸增加，加上他們常會飼養寵物作伴，使得國內的寵物數量比0~6歲嬰幼兒總數還多。
--	------------------------------------	---

根據上述內容判斷，這篇報告所要探討的主題與下列何者最相關？

- (A)家庭功能的變化
- (B)家庭成員的改變
- (C)社會教育的重要性
- (D)社會救助的迫切性

科目【公民】第一冊第三篇第3章 家庭生活

試題解析：三則新聞報導均屬於家庭功能的轉變，左：教育功能；中：照護功能；右：生育功能，故選(A)。

(D) 13. 我國中央政府基於五權分立、相互制衡的理念而運作，某些職務雖具有其法定職權，但行使職權時經常需要取得其他機關的同意才能完成，例如緊急命令的發布就包含了許多法定程序。下列何者與上述事例的運作流程無關？

- (A)總統
- (B)行政院
- (C)立法院
- (D)司法院

科目【公民】第三冊第三篇第2章 中央政府

試題解析：緊急命令發布流程，總統經行政院會議決議，發布後10日內提交立法院追認，故選(D)。



(A)14. 近來許多地方政府重新整頓閒置空間，每逢週末舉辦藝文活動，並對外進行攤位招商，有時還搭配煙火秀吸引遊客。由於此舉易造成周邊交通壅塞，加上地方財政困窘，因而輿論對此作法有諸多批評，但不少地方政府仍持續舉辦相關活動。下列何者最可能是上述地方政府作為的目的？

- (A)籌措地方自治財源
- (B)提供人民社會福利
- (C)維護自然環境資源
- (D)保障民眾言論自由

科目【公民】第三冊第三篇第3章 地方政府

試題解析：招商可以增加地方政府的財源，以解決地方財政困窘，故選(A)。

(D)15. 圖(七)是某機關發布之管理計畫的部分內容，該機關將據此管制指定觀光地區的活動範圍、時間及遊客行為。下列關於

壹、目的：
為維護遊憩品質、保護海洋生態環境及遊客安全，針對每日至北寮奎壁山東部赤崁陸連島(摩西分海)區域探訪之遊客，實施進入管理措施。
貳、管制對象：
(一)所有進入本區域之遊客。
(二)在地居民從事日常漁撈工作者除外。
：

圖(七)

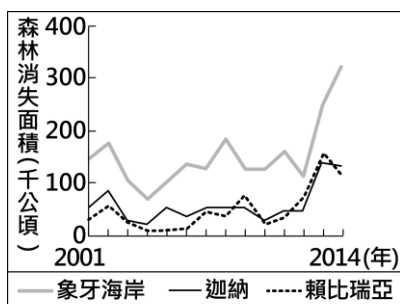
此管理計畫的敘述何者最適當？

- (A)限制了觀光遊客的人身自由
- (B)將影響漁撈工作者的財產權
- (C)管制行為有助於維持經濟秩序
- (D)實施管制是為了增進公共利益

科目【公民】第三冊第三篇第4章 政府的經濟功能

試題解析：管制人流乃是為了生態環境的永續發展(既能滿足我們現今的需求，又能滿足後代子孫的需求發展)，故選增進公共利益，故選(D)。

(B)16. 森林的消失受各種不同的自然及人為因素影響，大規模種植作物為重要的因素之一。圖(八)為某國際組織運用衛星影像資料，推算非洲三個國家自2001至



圖(八)

2014年森林消失面積的統計資料。圖中森林面積的變化最可能反映何種作物的大量種植？

- (A)小麥
- (B)可可
- (C)棉花
- (D)橄欖

科目【地理】第六冊第一篇第1章 非洲

試題解析：題幹敘述中有提到非洲，非洲大部分地區位處熱帶，多熱帶栽培業，所以此題選種植在熱帶的作物，故選(B)。

(C)17. 1942年，中國的對外陸上交通被日軍阻斷，所以開闢了一條空中通道，由甲地運送戰略物資至雲南昆明，如圖(九)所示。該



圖(九)

航線因受限於當時螺旋槳飛機的性能，僅能順著山峰與谷地飛行，軌跡高低起伏狀似駝峰而被稱為「駝峰航線」。根據上文，該航線應是越過下列何者？

- (A)天山山脈
- (B)青藏高原
- (C)橫斷山脈
- (D)內蒙古高原

科目【地理】第三冊第一篇第2章 地形

試題解析：雲南昆明飛到甲為從雲貴高原飛到橫斷山脈，且緬甸位處中南半島，中南半島為橫斷山脈的延伸，故選(C)。(A)天山在新疆，離緬甸有一大段距離；(B)青藏高原位處中國、印度和尼泊爾的交界；(D)內蒙古高原不在此地。

(D)18. 下列是不同月分到某地旅遊應注意的事項：「一月溫度較低且降雨機率高，記得準備厚外套、手套、圍巾和雨具；四月時山花漸開，下雨的機率漸減；七、八月氣候偏乾且日照強烈，需注意防曬；十月起天氣漸涼，早晚溫差大，且雨水漸多，可帶件薄外套。」該地最可能是下列何種氣候類型？

- (A)熱帶莽原氣候
- (B)溫帶大陸性氣候
- (C)夏雨型暖溫帶氣候
- (D)溫帶地中海型氣候

科目【地理】第四冊第二篇第1章 世界概說

試題解析：題目中敘述一月溫度較低且降雨機率高，意為冬天下雨；七、八月氣候偏乾且日照強烈，代表夏天乾旱；十月起天氣漸涼，早晚溫差大，代表某地應在溫帶，而不是熱帶，所以由以上可知，此地屬夏乾冬雨的溫帶地中海型氣候，故選(D)。

(B)19. 臺灣目前有四個國家

表(二)

設置地點	經緯度
甲	23.45°N, 121.50°E
乙	23.45°N, 120.14°E
丙	23.47°N, 121.36°E
丁	23.48°N, 119.51°E

風景區在其範圍內設置有北回歸線標誌，包括花東縱谷、東部海岸、澎湖以及雲嘉南濱海國家風景區。表(二)為上述四個北回歸線標誌設置地點的經緯度，何者位在雲嘉南濱海國家風景區範圍內？

- (A)甲 (B)乙 (C)丙 (D)丁

科目【地理】第一冊第一篇第1章 地理位置與範圍

試題解析：澎湖最西邊，經度為東經 119.51 度；雲嘉南位在臺灣本島西部，經度為東經 120.14 度；花東縱谷經度為東經 121.36 度；東部海岸為東經 121.50。愈西邊的地方，東經的數字愈小；愈東邊的地方，東



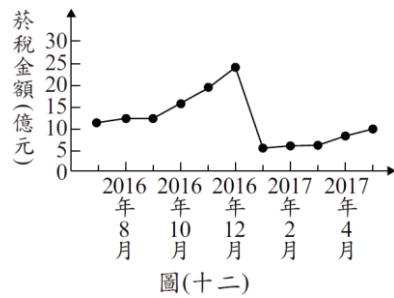
科目【公民】第五冊第三篇第5章 個人與家庭經濟

試題解析：投資報酬率=獲利金額/投資金額*100%。假設甲投資金額為10萬，其投資報酬率為20%，故獲利金額為2萬。乙投資金額和甲相同，為10萬，獲利只有甲的一半，故獲利金額為1萬，其投資報酬率為10%。

- (A) $2/10*100%=20%$ ；(B) $2/20*100%=10%$ ；
(C) $2/5*100%=40%$ ；(D) $0.5/5*100%=10%$ 。

由於丙的投資報酬率最高，故選(C)。

- (B) 26. 甲國為了降低國內吸菸人口，針對每包菸品課徵售價30%的菸稅，而自2017年起更提高至50%。圖(十二)是新制上路前後，國內菸稅金額的變化情況，根據圖中資訊判斷，下列何者最適合用來說明2016年底時所發生的變化？



- (A) 比較利益
(B) 預期心理
(C) 供給法則
(D) 受益原則

科目【公民】第五冊第三篇第1章 選擇與消費

試題解析：已知2017年菸稅會從售價30%提高到50%，故在調高前多買，乃係顯而易見的預期心理(菸品價格即將調漲)，故選(B)。

- (D) 27. 小蔡多次趁消費時詐騙某一店家財物，老闆不甘受騙報警處理。雖然小蔡遭逮後深表懊悔，並賠償店家損失達成和解，老闆也決定不提出告訴，但警方仍依法將他移送法辦，最後小蔡遭法院判處罰金。上述小蔡與老闆達成和解，以及被法院判罰的部分，依序屬於下列何種類型？
- (A) 行政案件、告訴乃論的刑事案件
(B) 民事事件、告訴乃論的刑事案件
(C) 行政案件、非告訴乃論的刑事案件
(D) 民事事件、非告訴乃論的刑事案件

科目【公民】第四冊第四篇第5章 權利救濟

試題解析：小蔡與老闆達成和解，賠償店家損失，為民事部分。但詐騙為刑法的詐欺罪，屬非告訴乃論，為刑事案件，故選(D)。

- (B) 28. 金芳工廠評估三種營運策略的收支情況，如表(四)所示。若僅考量利潤，該工廠的最佳選擇是「維持現狀」，且此選擇的機會成本是「增產乙產品」。根據上述內容判斷，表中「☆」處的數值，最可能為下列何者？
- (A)80 (B)70 (C)60 (D)50

表(四)

營運策略	銷貨收入	生產成本
增產甲產品	120	90
增產乙產品	105	☆
維持現狀	80	40

單位：萬元/月

科目【公民】第五冊第三篇第2章 生產與利潤

試題解析：利潤=銷貨收入-生產成本

增產甲產品利潤： $120-90=30$ ；維持現狀的利潤： $80-40=40$ 。「☆」處若帶入(A)， $105-80=25$ ；若帶入(B)， $105-70=35$ ；若帶入(C)， $105-60=45$ ；若帶入(D)， $105-50=55$ 。(C)(D)利潤大於維持現狀的40，故不符。另選擇維持現狀的機會成本是增產乙產品，代表增產乙產品的利潤大於甲(所放棄的最高價值)。(A)25低於增產甲產品的30，不符。故選(B)。

- (C) 29. 圖(十三)中的甲地為美國退役飛機存放的地點之一，以便這些飛機做後續的處置與再利用。根據當地的地理環境特色判斷，選擇該地點存放與下列何者關係最密切？



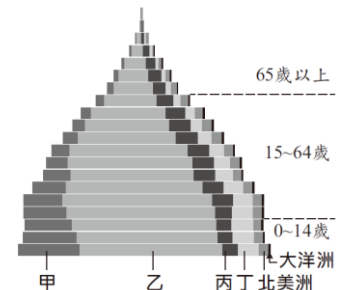
圖(十三)

- (A) 位於加州矽谷，維修人力充足
(B) 地處北美大平原上，地廣人稀
(C) 氣候乾燥少雨，避免零件鏽蝕
(D) 鄰近墨西哥灣，利於拆解轉售

科目【地理】第五冊第一篇第5章 北美洲

試題解析：退役的飛機放在甲地，甲地屬溫帶沙漠氣候，接近美國拉斯維加斯。此地氣候較乾燥少雨，可避免零件生鏽，故選(C)。

- (C) 30. 圖(十四)是以每5歲為一級距，統計2013年世界各年齡層人口數的示意圖，其中不同顏色代表不同洲的資料。圖中丙應為哪一洲？



圖(十四)

- (A) 非洲
(B) 亞洲
(C) 歐洲
(D) 中南美洲

科目【地理】第四冊第二篇第1章 世界概說

試題解析：圖(十四)為2013年世界各年齡層人口數的示意圖，從最底部所占的比例來看(出生率)，出生率最大的乙為亞洲；第二名為非洲，故甲為非洲；第三名為中南美洲，故丁為中南美洲；四個選項中出生率最低的是歐洲，故丙為歐洲，故選(C)。

- (B) 31. 「飛行釀酒師」是一個特別的行業，他們搭乘飛機穿梭在全球各地的葡萄園提供技術指導，尤其是在秋季葡萄採收時最為忙碌。某一釀酒師在澳洲葡萄採收的季節前往該國協助，則他在澳洲停留的月份最可能為下列何者？
- (A) 1、2月
(B) 3、4月
(C) 6、7月
(D) 9、10月

科目【地理】第六冊第一篇第2章 大洋洲與兩極地區

試題解析：葡萄採收的季節為秋天，澳洲的秋天為3、4月，



故選(B)。

- (A) 32. 歐洲兩大河流藉由某一運河相互連結，以提升河流的航運價值。甲港口為該運河上重要的轉運樞紐，表(五)為 2016 年兩條河流流域內各國與甲港口之間的船舶貨運量。由表中資訊判斷，可推論出其中一條河流的貨運量較大，該河流應是注入哪個海域？

國家	船舶貨運量(公噸)
荷蘭	100,488
德國	68,520
比利時	50,813
奧地利	34,498
匈牙利	8,891
法國	5,552
斯洛伐克	4,094
羅馬尼亞	854
總計	273,710

註：船舶貨運量為各國以船舶運抵甲港口及從甲港口運至各國的貨運量總和。

- (A)北海
(B)黑海
(C)地中海
(D)波羅的海

科目【地理】第五冊第一篇第 2 章 歐洲概說與南歐

試題解析：從題目中可知，歐洲兩大河流藉這一個運河相互連結，此兩大河流為多瑙河與萊茵河。再由表(五)可以判斷，荷蘭的船舶貨物量較大，因萊茵河從荷蘭出海流入北海，故選(A)。

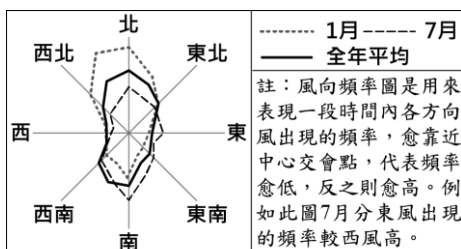
- (A) 33. 「早期，臺灣中部山區的原住民開墾坡地時，會先砍伐樹木，待其充分乾燥後點火焚燒，坡地因此留下不少灰燼，可作為肥料。首年的收穫相當可觀，但通常僅能耕作 3 至 5 年，便須遷移到其他坡地，再以相同方式開墾。」上述農墾方式最可能也出現在下列哪一地區？

- (A)印尼蘇門答臘島
(B)埃及尼羅河三角洲
(C)加拿大拉布拉多高原
(D)俄羅斯西伯利亞山地

科目【地理】第四冊第二篇第 3 章 東南亞與南亞


試題解析：從題幹中敘述可知，臺灣中部山區的原住民會砍伐樹木、點火焚燒，燒下來的灰燼作為肥料，此為游耕的論述。而熱帶地區的土壤較不肥沃，所以通常會砍樹燒林，增加其肥力，位處熱帶地區的印尼蘇門答臘，較有可能出現這樣的農墾方式，故選(A)。

- (D) 34. 「通風廊道」主要由公園與綠地組成，其規畫是為了引導都市外涼爽、乾淨的空氣流入都市，以



圖(十五)

緩解都市中心悶熱、汙濁的空氣環境，廊道走向主要與當地盛行風向一致。圖(十五)為中國季風氣候區內某都市的風向頻率圖，根據該都市最主要的風向判斷，其通風廊道的規畫最可能接近下列何者？



科目【地理】第三冊第一篇第 6 章 資源問題與環境保育

試題解析：題目中敘述「通風廊道」主要是為了引導涼爽乾淨的空氣進入都市，以紓解都市中心悶熱、汙濁的空氣環境。再從圖(十五)來看，該都市吹南北風的頻率較高，所以通風廊道應以南北向為主，才不會阻擋到風，並能引導風進入都市中心的區域，故選(D)。

- (D) 35. 歷史上某種組織的設立目的，是為了保護城市同業會員的利益，其作法包括：(1)禁止非會員營業；(2)會員間有互助救濟的責任；(3)規定價格、品質、工資、工作條件，以限制競爭。此種組織最可能是下列何者？

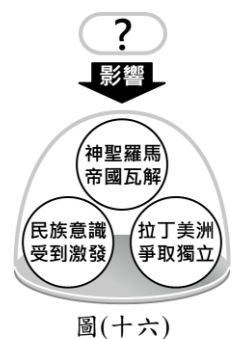
- (A)中共人民公社 (B)蒙古帝國的驛站
(C)唐代的市舶司 (D)中世紀西歐行會

科目【歷史】第三冊第二篇第 4 章 胡漢融合的隋唐帝國；第三冊第二篇第 5 章 多民族並立的宋元時期；第四冊第三篇第 6 章 中華人民共和國的建立與發展；第五冊第二篇第 3 章 中世紀的歐洲及伊斯蘭世界

試題解析：(A)人民公社將農民編入生產隊，以集體管理的方式進行生產活動；(B)蒙古帝國的驛站是提供信使、官員與旅人歇息的處所，促進歐、亞貿易與貨物的流通；(C)唐代的市舶司進行收稅等事宜，類似今日的海關；(D)中世紀西歐行會是為了保護城市同業會員的利益而設立。故選(D)。

- (C) 36. 歷史老師上課時，使用圖(十六)講解某一史事所造成的影響，圖中的「？」最可能是下列哪一史事？

- (A)美國獨立戰爭
(B)英國光榮革命
(C)拿破崙向外擴張
(D)俾斯麥推動國家統一



科目【歷史】第五冊第二篇第 6 章 近代民主政治的發展；第六冊第二篇第 1 章 19 世紀的民族主義與文化發展

試題解析：拿破崙稱帝後，積極向外擴張，除了英、俄以外，幾乎征服歐陸。他解散神聖羅馬帝國，入侵西班牙



與葡萄牙，造成拉丁美洲乘機獨立。故選(C)。

- (C)37. 圖(十七)是一張戰爭期間發給的通行證部分內容，此通行證最可能使用於何時何地？

- (A)鴉片戰爭期間的打狗
(B)英法聯軍期間的安平
(C)中法戰爭期間的基隆
(D)甲午戰爭期間的澎湖

致法軍司令：
持本通行證者為宣教士馬偕博士，他希望能進入貴國占領地，拜訪他所屬的教會。……因此身為英國領事，在此懇請閣下准許馬偕進入，並在當地自由安全的通行。
英國領事謹致

圖(十七)

科目【歷史】第一冊第二篇第6章 清領後期的開港與建省

試題解析：臺灣開港通商後，傳教士馬偕在臺灣北部傳教。由通行證「致法軍司令」可知與法國有關，故選(C)。

- (C)38. 小芳撰寫「臺灣糖業發展」的課堂報告，想討論在十九世紀中後期臺灣糖業所發生的變化，下列何者最能夠呈現當時的變化？

- (A)新式糖廠用縱貫鐵路運送蔗糖
(B)興建嘉南大圳使甘蔗產量增加
(C)蔗糖可由洋行收購，銷往國外
(D)臺灣開始種植甘蔗，發展糖業

科目【歷史】第一冊第二篇第2章 國際競爭下的臺灣；第一冊第二篇第6章 清領後期的開港與建省；第二冊第二篇第2章 日治時期的經濟發展

試題解析：(A)新式糖廠用縱貫鐵路運送蔗糖，此為日治時期，已到20世紀；(B)嘉南大圳於1930年完工，此為日治時期，已到20世紀；(C)開港通商後，外商在通商口岸設立洋行；(D)臺灣在荷蘭治臺時期，已將稻米、蔗糖外銷。題幹所述為19世紀中後期的糖業變化，故選(C)。

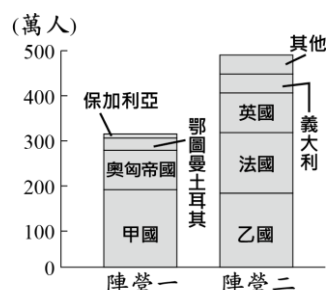
- (D)39. 「吳生是徽州人，參加科舉考試屢屢失利，但他沒有放棄金榜題名的希望。為了糊口謀生，在這個徽州商人活躍於全國，形成商幫組織的時代，他未從商而選擇行醫。有一年，吳生遠赴省城參加鄉試，卻遇上了身體不適的老友上門求診，結果老友得以痊癒，自己卻又再度名落孫山。終其一生，他雖未能如願中舉，但卻成為一位良醫。」上文中的吳生，最可能是下列何時的讀書人？

- (A)西漢時期
(B)隋唐時期
(C)北宋時期
(D)明清時期

科目【歷史】第三冊第二篇第6章 明代與盛清的發展

試題解析：明清時期，商業蓬勃發展，出現地域性的商業組織，並形成商幫，其中以山西商人與徽州商人最為著名。故選(D)。

- (B)40. 圖(十八)是某戰爭中，交戰雙方(陣營一、陣營二)各成員國的軍隊陣亡人數圖。圖中的甲與乙最可能分別是哪兩國？



圖(十八)

(A)甲：美國，乙：德國 (B)甲：德國，乙：俄國

(C)甲：日本，乙：中國 (D)甲：俄國，乙：美國

科目【歷史】第六冊第二篇第2章 新帝國主義與第一次世界大戰

試題解析：第一次世界大戰爆發前，已形成德、奧、義三國同盟與俄、法、英三國協約兩大陣營。開戰後，義大利倒向協約國。故選(B)。

- (C)41. 有一本1926年出版的書籍，對於臺北名勝介紹如下：「圓山公園位在距離臺北車站1.8哩之處，隔基隆河與臺灣神社相望，樹木繁盛，滿山翠綠。園內有市立動物園，動物園飼養了來自世界各地的珍禽異獸，遊覽者眾，此動物園被公認是國內的五大動物園之一。」上述內容中「國內的五大動物園」最可能還包括下列何地的動物園？

- (A)上海
(B)馬尼拉
(C)京城(首爾)
(D)巴達維亞(雅加達)

科目【歷史】第六冊第二篇第3章 戰間期與第二次世界大戰

試題解析：1926年的臺灣為日本統治，由文中「隔基隆河與臺灣神社相望」可知。因此「國內的五大動物園」均在日本領地中，1910年朝鮮被日本併吞，直至二戰後才獨立。故選(C)。

- (B)42. 圖(十九)是一則網路新聞報導，根據圖中內容判斷，在此案的處理過程中，最可能會出現下列何種情況？

消費者請注意
豪明公司未經主管機關許可，自國外引進聲稱具有療效的床墊販售牟利，違反《藥事法》規定，相關單位進行調查後，決定對該公司業務負責人提起公訴。

圖(十九)

- (A)大法官對案件進行公平審理
(B)檢察官主導案件的偵查工作
(C)消保官追訴負責人的犯罪行為
(D)書記官協助業者進行調解事宜

科目【公民】第四冊第四篇第5章 權利救濟

試題解析：提起公訴是檢察官的職責。(A)審理為法官的職權；(C)追訴犯罪行為為檢察官的職權；(D)書記官為法庭中的記錄人員，故選(B)。

- (B)43. 阿治在網路上分享自己潛水過程中觸碰綠蠵龜的影片，引發了爭議。由於他隨意觸碰保育類動物的行為，涉嫌違反《野生動物保育法》，一旦確定行為違法，最重將可能面臨有期徒刑的處罰。根據上述內容判斷，若阿治遭罰但不服，他採行下列哪一方式進行權利救濟最適當？

- (A)向相關單位提出請願
(B)向高等法院提起上訴
(C)向訴願管轄機關提出訴願
(D)向高等行政法院提起上訴

科目【公民】第四冊第四篇第5章 權利救濟

試題解析：有期徒刑係指刑罰，屬於刑事訴訟程序，若不服可向高等法院提起上訴。(A)請願是人民對於國家政



策、公共利害或其他權益的維護；(C)訴願為行政行為違法或不當，人民提出的權利救濟，屬於行政訴訟程序；(D)刑事訴訟審理的法院為普通法院、高等法院、最高法院，而高等行政法院屬於行政訴訟，故選(B)。

(A)44. 某機關希望縮短使用

者的停車時間，提高停車場車位的流動率，使車位能讓更多洽公民眾使用，因此設計新的停車費率，如表(六)所示。該機關設定表中停車費率所運用的經濟學概念，與下列何者最相似？

表(六)

停車時間	收費金額
20分鐘內離場	0元
第一個小時	40元
第二個小時起	每小時100元

用，因此設計新的停車費率，如表(六)所示。該機關設定表中停車費率所運用的經濟學概念，與下列何者最相似？

- (A)慶祝擴大營業，全店半價促銷
- (B)物價持續上漲，貨幣價值降低
- (C)提高銷貨收入，增加公司利潤
- (D)香蕉價格下跌，種植農民變少

科目【公民】第五冊第三篇第1章 選擇與消費

試題解析：表(六)價格上漲需求減少，為需求法則。(A)需求法則；(B)通貨膨脹；(C)銷貨收入；(D)供給法則，故選(A)。

(D)45. 表(七)內容為燕

玲在日常生活中所碰到的四種情況。根據表中內容判斷，哪二種情況隱含「外部成本」的概念？

表(七)

代號	情況
甲	鄰居庭院的花枯死了，燕玲對於聞不到花香感到可惜。
乙	對面住家常常在半夜大聲播放音樂，害燕玲都睡不著。
丙	隔壁住戶的狼犬警戒心很強，讓燕玲也住得安心許多。
丁	樓下熱炒店被檢舉後油煙味減少，讓燕玲覺得很高興。

- (A)甲、乙
- (B)丙、丁
- (C)甲、丙
- (D)乙、丁

科目【公民】第三冊第三篇第4章 政府的經濟功能

試題解析：(甲)外部效益減少；(乙)外部成本增加；(丙)外部效益增加；(丁)外部成本減少，故選(D)。

(C)46. 有鑑於以往選舉活動過於密集，除了選務工作須花費大量成本外，也容易造成社會紛擾，於是我國目前採用每隔兩年交錯的原則，分別辦理中央層級與地方層級公職人員的選舉。根據表(八)內容判斷，以民國107年九合一地方公職人員選舉為例，「✓」代表可領取該項選舉選票，若小華具有此次選舉的投票權，下列何者是他依法可能領取的選票組合之一？

表(八)

選票組合	直轄市市長	直轄市市議員	縣長	縣議員	縣轄市市長	市民代表	山地原住民區區長	山地原住民區區民代表	里(村)長
甲	✓	✓	✓	✓	✓	✓	✓	✓	✓
乙			✓	✓	✓	✓	✓	✓	✓
丙	✓	✓							✓
丁					✓			✓	✓

- (A)甲 (B)乙 (C)丙 (D)丁

科目【公民】第三冊第三篇第6章 政治參與和選舉

試題解析：(A)若選直轄市市長與市議員，則不能拿縣長、縣議員、縣轄市市長、市民代表的票；(B)山地原住民區僅設置在直轄市；(C)若是直轄市且非山地原住民區的居民，則可領直轄市市長、直轄市議員和里(村)長的票；(D)若選縣轄市市長，則可以領縣長、縣議員的票，故選(C)。

(A)47. 小毛：「老師，為什麼每年學校都要送應屆考生包子、蛋糕和粽子的餐盒？」老師：「因為包子、蛋糕和粽子的諧音為『包高中』，寓有對考生祝福吉利的意思。」

上述學校作為所隱含的社會規範，其性質與下列何者最類似？

- (A)除夕當晚家家戶戶團圓圍爐
- (B)遛狗時隨手清理愛犬的糞便
- (C)許多阿拉伯人每日都做禮拜
- (D)騎車時使用手機會被開罰單

科目【公民】第二冊第三篇第3章 社會規範

試題解析：題幹為我國的風俗習慣。(A)風俗習慣；(B)道德倫理、法律；(C)宗教信仰；(D)法律，故選(A)。

(D)48. 表(九)是我國某一項公職人員選舉的開票結果。根據表中內容判斷，此項選舉所選出的公職人員應具有下列何項職權？

表(九)

○○市第二選區第59號投開票所開票結果

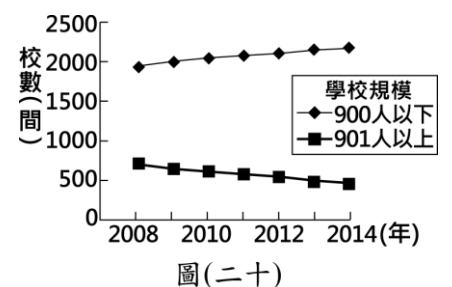
候選人得票數				
候選人	①王大銘	②趙小虹	③康自強	
得票數	203票	1046票	344票	
政黨得票數				
政黨	甲黨	乙黨	丙黨	丁黨
得票數	1039票	89票	326票	159票

- (A)依法公布法律、命令
- (B)編列中央政府的預算
- (C)質詢地方政府的行政官員
- (D)提出總統、副總統彈劾案

科目【公民】第三冊第三篇第6章 政治參與和選舉

試題解析：表(九)為立法委員，採單一選區兩票制。(A)總統職權；(B)行政院職權；(C)地方民代職權；(D)立法委員職權，故選(D)。

(A)49. 圖(二十)顯示 2008 至 2014 年臺灣不同規模的國小校數變化，此種變化趨勢與下列哪一臺灣社會現象的關係最密切？



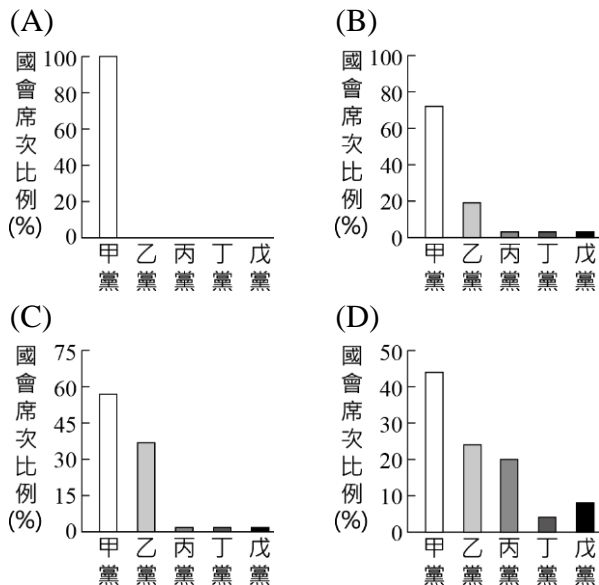
- (A)國內的生育率下降
- (B)外籍配偶人數增加
- (C)國民義務教育延長
- (D)隔代教養家庭增加

科目【地理】第二冊第一篇第1章 人口；【公民】第一冊第三篇第4章 家庭協奏曲



試題解析：由圖(二十)判斷，學校規模小於900人以下的校數愈來愈多，學校規模大於901人以上的校數愈來愈少，代表臺灣的國小規模漸小，而此現象是因臺灣國內生育率下降，國小學生人數變少所致，故選(A)。

(D) 50. 某內閣制國家在國會大選結束後，該國最大黨因與其他政黨在移民、環保政策等問題上難以達成共識，導致遲遲無法組成聯合政府。根據上述內容判斷，下列何者最可能為該國的選舉結果？



科目【公民】第三冊第三篇第5章 政黨與利益團體

試題解析：聯合政府指多黨制(無法像一黨單獨過半)。(A)一黨專制；(B)一黨獨大；(C)兩黨制，故選(D)。

(B) 51. 2018年的「世界音樂節@臺灣」邀請了世界各地的音樂團體來臺演出，其中來自厄瓜多的樂團帶來安地斯山風情的音樂，讓我們可以藉此欣賞該國的文化特色。上述文化特色最可能為下列何者？

- (A) 中東新樂曲
- (B) 印加傳統音樂
- (C) 寶萊塢歌舞劇
- (D) 愛爾蘭踢踏舞樂

科目【地理】第五冊第一篇第6章 中南美洲

試題解析：厄瓜多位在南美洲安地斯山脈北部的高地，介於哥倫比亞跟秘魯之間，曾為印加帝國的統治範圍，故選(B)。(A)中東新樂曲是在西亞，屬熱帶沙漠氣候區，受伊斯蘭文化影響；(C)寶萊塢屬印度孟買的歌舞文化；(D)愛爾蘭踢踏舞在西歐。

(A) 52. 圖(二十一)甲處自西元前四世紀至西元七世紀，官方使用的文字因外來統治者改變而有所不同，這些官方文字使用時間的先後順序最可能是下列何者？



圖(二十一)

- (A) 希臘文→拉丁文→阿拉伯文
- (B) 希臘文→阿拉伯文→拉丁文
- (C) 阿拉伯文→拉丁文→希臘文
- (D) 阿拉伯文→希臘文→拉丁文

科目【歷史】第五冊第二篇第2章 希臘與羅馬文化；第五冊

第二篇第3章 中世紀的歐洲及伊斯蘭世界

試題解析：圖(二十一)中的甲為埃及。西元前4世紀，亞歷山大征服埃及，建立希臘化文化；羅馬共和、帝國時期至東羅馬帝國版圖皆包括埃及，而羅馬使用拉丁文；8世紀阿拉伯建立跨歐、亞、非三洲大帝國，版圖包括埃及。故選(A)。

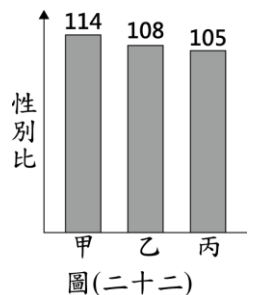
(B) 53. 以下是一位學者對於歷史上某次政治改革所做的評論：「憲法由資政院起草議決，皇帝頒布；修正權屬於國會；皇帝權力以憲法規定者為限。上述這些規定雖限制了部分皇權，卻仍然強調皇帝神聖不可侵犯，對於人民的民主權利隻字未提。」根據內容判斷，推行上述政治改革的最可能是下列何者？

- (A) 1860年的太平天國
- (B) 1911年的清朝政府
- (C) 1947年的國民政府
- (D) 1949年的中華人民共和國

科目【歷史】第四冊第三篇第3章 清朝的覆亡

試題解析：從評論中可知，憲法由皇帝頒布，只有在清末的立憲運動中，憲法和皇帝同時存在。故選(B)。

(B) 54. 某年世界新生兒性別比為106，圖(二十二)是同年甲、乙、丙三個國家新生兒性別比的數據。根據圖中資料判斷，下列何者最可能是甲國社會現況的敘述？



- (A) 戰亂頻仍，社會環境不夠穩定
- (B) 重男輕女，性別刻板印象普遍
- (C) 思想觀念開放，尊重多元性別發展
- (D) 屬於母系社會，後代子女多從母姓

科目【公民】第一冊第三篇第2章 和諧的性別關係

試題解析：性別比114高出世界106甚多，顯然該國多存在生男孩優於生女孩的重男輕女觀念，故選(B)。

(C) 55. 表(十)是臺灣農工業產品，在外銷貿易額中所占的比例。根據該表數據判斷，造成此變化的原因最可能與下列哪一經濟措施有關？

表(十)

時間	1962年	1973年
農業產品	49%	17%
工業產品	51%	83%

出口導向：又稱出口擴張；
新竹科學工業園區：現已改名為新竹科學園區。

- (A) 推動耕者有其田
- (B) 加入世界貿易組織
- (C) 實施出口導向政策
- (D) 成立新竹科學工業園區

科目【歷史】第二冊第二篇第6章 戰後臺灣的經濟與社會

試題解析：表(十)1973年(民國60年代)工業產品大幅超越農業產品：(A)民國42年推動耕者有其田；(B)民國91年加入世界貿易組織；(C)民國50年代出口導向，設立加工出口區，經濟型態轉以工業為主；(D)民國70年代產業升級，成立新竹科學工業園區，發



展電子、資訊等高科技產業。故選(C)。

二、題組：(56~63 題)

閱讀下列選文，回答第 56 至 57 題：

約翰·馬歇爾，畢業於英國劍橋大學，曾經參與希臘克里特島考古遺址的挖掘工作。1902 年，他獲得大英博物館的推薦，被派遣到英國在亞洲的殖民地，擔任該地的考古局局長。他熱衷考古，在派駐該地時，接續前人工作，繼續進行多個古代遺址的挖掘，並對桑奇遺址展開復原及研究工作。桑奇遺址主要由三座塔構成：大塔由阿育王所建的磚塔擴建而來，相傳曾藏有釋迦牟尼的遺骨，而二塔、三塔則出土了阿育王時代向外傳法的僧侶們及釋迦牟尼弟子的骨骸，這些考古發現為阿育王致力於該宗教的信仰與傳播提供了實證。同時，馬歇爾也推動制定《古代遺跡保護法案》，界定考古的工作目標及範圍，確立了當地考古研究的基礎。

- (A) 56. 上文提及馬歇爾被派遣到的「殖民地」，最可能是下列何地？
(A)印度 (B)越南
(C)土耳其 (D)澳大利亞

科目【歷史】第六冊第二篇第 2 章 新帝國主義與第一次世界大戰

試題解析：馬歇爾為英國人，印度為英國的殖民地。故選(A)。

- (B) 57. 文中雙底線處的遺址已被列入世界文化遺產，它被指定為世界遺產最可能與下列何者有關？
(A)彰顯伊斯蘭文化的擴張與融合
(B)展現早期佛教建築藝術的特色
(C)見證了殖民體系下的軍事防禦
(D)保存了工業革命時的工廠形式

科目【歷史】第五冊第二篇第 1 章 古文明的誕生

試題解析：西元前 6 世紀，釋迦牟尼在印度創立佛教。西元前 3 世紀，孔雀王朝阿育王提倡佛教。故選(B)。

閱讀下列選文，回答第 58 至 60 題：

臺灣雲豹原始的棲息環境主要在海拔 1,500 公尺以下的暖溫帶原始森林，在土地被大量開發之後，近幾十年來，牠們似乎已經不見蹤跡，僅能從年長或有狩獵經驗的原住民口中，蒐集到有關曾經捕獲或目擊到雲豹的資訊，而大多數受訪者所指稱的地點多位於中央山脈南段的山區。有一群研究人員為了尋找牠們，歷經三年多的調查雖一無所獲，但還是以目前對雲豹的了解，嘗試繪製臺灣島上雲豹族群可能棲地的分布圖，其繪製的原則與流程如下：

【步驟一】首先把全臺灣海拔在 300 到 2,000 公尺之間、面積超過 40 平方公里的森林篩選出來，定義為雲豹的主要棲地。

【步驟二】假設雲豹可以在距離 1 公里之內的破碎棲地間順利移動，因此把距離主要棲地 1 公里以內面積不足 40 平方公里，但大於 4 平方公里的森林，一併納入最近的主要棲地範疇。

【步驟三】距離村莊、部落 5 公里以內，或距離主要道路 3 公里以內的主要棲地不適合雲豹棲息，因而刪除這些區域。

- (C) 58. 根據上文判斷，臺灣雲豹原始的棲息環境主要為下列何種天然植被？

- (A)紅樹林
(B)針葉林
(C)闊葉林
(D)高山草原

科目【地理】第一冊第一篇第 6 章 環境問題與環境保護

試題解析：題目中敘述臺灣雲豹的原始棲息環境主要位在海拔 1,500 公尺以下的暖溫帶原始森林，依照林相分布應為闊葉林，故選(C)。

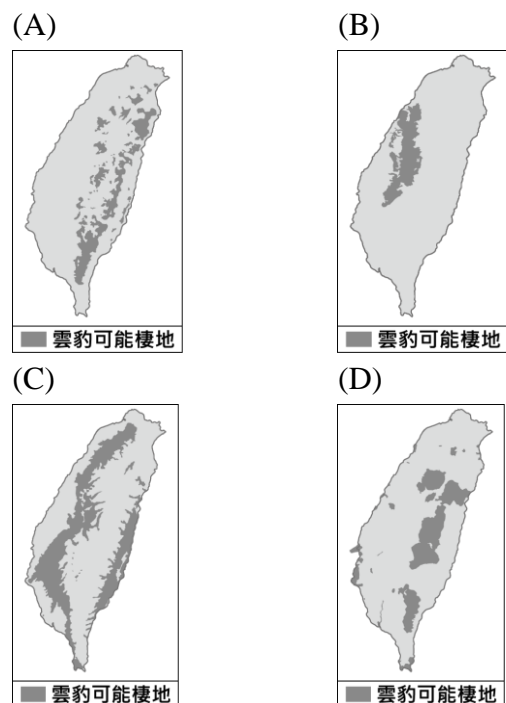
- (B) 59. 文中多數受訪者目擊雲豹的地點為下列哪兩個原住民族的主要分布地區？

- (A)布農族、鄒族
(B)魯凱族、排灣族
(C)泰雅族、賽夏族
(D)太魯閣族、阿美族

科目【歷史】第一冊第二篇第 1 章 史前臺灣與原住民文化

試題解析：由文中「大多數受訪者所指稱的地點多位於中央山脈南段的山區」，此區為魯凱族與排灣族的居住地。故選(B)。

- (A) 60. 根據文中研究員繪製雲豹可能棲地的原則與流程，其分布圖最接近下列何者？



科目【地理】第一冊第一篇第 2 章 地形

試題解析：可由題目中敘述，判斷雲豹可能的棲地分布圖，判斷原則為：一、必須在海拔 300 到 2,000 公尺之間；二、主要關鍵為雲豹可在距離 1 公里之內的破碎棲地間順利移動；三、不能太接近村莊。由這三個原則來看，(A)雲豹可能棲地大多位處中央山脈，且棲息地間多破碎、海拔高度不是很高的地區；(B)繪製的區域不在中央山脈的範圍內；(C)也不在中央山脈的範圍之內；(D)繪製出來的區域多屬高海拔地區，且棲地完整，非破碎範圍，故選(A)。




閱讀下列選文，回答第 61 至 63 題：

食物是人類維持生存的必需品，但世界上卻不是人人都能夠吃飽喝足，因此，聯合國在 1945 年 10 月 16 日成立糧食與農業組織，希望能有效管理全球糧食系統，讓更多人擺脫飢餓；後來更進一步將這一天訂為世界糧食日，希望藉由訂定這個主題日呼籲大眾關注糧食議題。

聯合國關於糧食安全的報告顯示，目前全球約有 8 億人面臨飢餓，相當於世界上每 9 人中就有 1 人正遭受飢餓，但全球卻有約三分之一的糧食被浪費掉。由此看來，全球糧食並非不夠，而是分配不均，因此，如何處理糧食分配不均和食物浪費的問題，儼然已成為全球新的糧食議題。

在臺灣，食物浪費的情形也很嚴重，根據環保署統計全國廚餘量推估，國內每人每年平均浪費約 100 公斤的食物；食藥署也曾調查指出，一年約有 3 萬 6 千公噸的食物商品被當作垃圾處理。雖然臺灣目前沒有缺糧的危機，但糧食自給率偏低，加上農地逐漸減少、食品安全及食物浪費的問題，仍可能影響臺灣的糧食安全。

有鑑於此，減少糧食浪費似乎比增加糧食生產更加迫切，許多國家皆努力降低食物浪費的比率，臺灣自然也無法置身事外。因此，從食農教育開始培養國人愛惜食物的觀念，並推動安全的食物生產、提高糧食自給率，才能避免糧荒噩夢到來。

 糧食自給率：國內消費的糧食中，由國內生產供應的比率。

- (C)61. 文中國際組織的分布區域及成員性質，與下列何者最類似？
- (A)歐洲聯盟
 - (B)世界展望會
 - (C)世界貿易組織
 - (D)國際綠色和平組織

科目【公民】第六冊第三篇第 3 章 國際社會中的互動

試題解析：糧食與農業組織(聯合國)為全球性國際組織、政府的國際組織，故選(C)。

	分布區域	成員性質
(A)歐洲聯盟	區域	政府
(B)世界展望會	全球	非政府
(C)世界貿易組織	全球	政府
(D)國際綠色和平組織	全球	非政府

- (C)62. 根據上述內容判斷，下列何者最符合文中提及的觀點？
- (A)推動國際貿易可減少食物浪費數量
 - (B)國內第一級產業就業人口逐年增加
 - (C)推動理念層次變遷有助改善糧食問題
 - (D)目前全球糧食總量呈現供不應求情況

科目【公民】第六冊第三篇第 3 章 國際社會中的互動

試題解析：「食農教育」開始培養國人愛惜食物的觀念，這是理念層次的變遷(減少浪費比增產更迫切)，故選(C)。

- (D)63. 若小名要響應文中提及的主題日，下列何種作法最適當？

- (A)擔任社區老人共餐志工，從事公益服務活動
- (B)珍惜有限資源，落實廢棄物資源回收再利用
- (C)購買珍珠奶茶時，自備可以重複使用的環保吸管
- (D)參加食材零廢棄料理比賽，創造剩餘食材的價值

科目【公民】第六冊第三篇第 4 章 建立和諧的世界

試題解析：文中提及的主題日為世界糧食日，呼籲大眾關注糧食議題。(A)公益服務；(B)資源永續；(C)環境保育；(D)食材零廢棄，減少糧食浪費，故選(D)。

